



1. PODJELA TROKUTA



Upiši kojoj vrsti pripada trokut sa slike (s obzirom na njegove kutove , te napiši njegovu definiciju.

IME TROKUTA

DEFINICIJA









2. PODJELA TROKUTA




Upiši kojoj vrsti pripada trokut sa slike (s obzirom na njegove stranice, te napiši njegovu definiciju.

IME TROKUTA

DEFINICIJA











3. PODJELA TROKUTA

Pokraj slike upiši koje je vrste trokut:

1. jednakokračni pravokutni trokut
2. šiljastokutni raznostranični trokut
3. jednakokračni tupokutni trokut
4. jednakokračni šiljastokutni trokut









Ime I prezime: _____

Razred: _____

Samoprocjena rada i aktivnosti

Crtam i definiram slijedeće pojmove



POJMOVI	UVIJEK 	PONEKAD 	NIKAD 
Jednakostran ičan trokut			
Jednakokrač an trokut			
Tupokutan trokut			
Šiljastokutan trokut			

Ime I prezime: _____

Razred: _____

Samoprocjena rada i aktivnosti

Crtam i definiram slijedeće pojmove



POJMOVI	UVIJEK 	PONEKAD 	NIKAD 
Pravokutan trokut			
Raznostraničn i trokut			
Jednakokrač ni pravokutn			
Trokut			